

社会中 3 もくじ

講座	単元名	ページ	学習日
第1講座	世界と日本, 身近な地域の調査, 都道府県の調査	P.2 ~ P.5	/
第2講座	世界の国々の調査, 世界から見た日本のすがた	P.6 ~ P.9	/
第3講座	古代~中世までの歴史	P.10~P.13	/
第4講座	近世~明治維新までの歴史	P.14~P.17	/
第5講座	近・現代の歴史	P.18~P.21	/
第6講座	政治	P.22~P.25	/
第7講座	経済	P.26~P.29	/
第8講座	総まとめ問題	P.30~P.32	/

第1 講座

世界と日本、身近な地域の調査、都道府県の調査



要点の整理

1 世界のすがた

- (1) 六大陸と三大洋 ユーラシア大陸、アフリカ大陸、北アメリカ大陸、南アメリカ大陸、南極大陸、オーストラリア大陸。太平洋、大西洋、インド洋。
- (2) 緯線と経線 赤道に平行に引かれた線が緯線、北極と南極を結んだ線が経線。
- (3) 標準時と時差 経度15度で1時間の時差が生じる。日付変更線を東から西にまたぐときは1日進め、西から東にまたぐときは1日遅らせる。ロンドンが本初子午線(経度0度)で、日本の標準時子午線は兵庫県明石市を通る東経135度。
- (4) 世界の国々 190以上の国がある。面積が最大の国はロシア連邦、最小の国はバチカン市国。人口が多い国は、中国、インドの順(2005年)。
- (5) 世界の六つの州 アジア、ヨーロッパ、アフリカ、北アメリカ、南アメリカ、オセアニア。

2 日本のすがた

- (1) 位置 ユーラシア大陸の東側にあり、東経122度～154度、北緯20度～46度の間に位置。
- (2) 日本の領域 北海道、本州、四国、九州の4島と付近の島々からなる。面積は約38万km²。沿岸から200海里(約370km)を経済水域とする。
- (3) 北方領土 日本固有の領土。現在ロシアが領有。
- (4) 日本の地方区分 北海道、東北、関東、中部、近畿、中国、四国、九州に分けるのが代表的。

3 身近な地域の調査

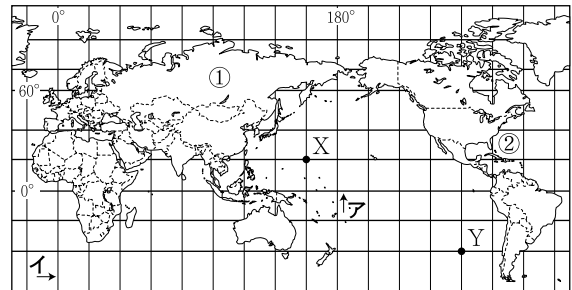
- (1) 縮尺 実際の距離を地図上に縮小した割合。実際の距離＝「地形図上の長さ」×「縮尺」
- (2) 等高線 同じ高さの地点を結んだ線。間隔が小さいところは傾斜が急、広いところはゆるやか。

4 都道府県の調査

- (1) 福岡県 北九州工業地帯は1960年代のエネルギー革命後、低迷。福岡市は地方中核都市。
- (2) 愛知県 都道府県別の工業製品出荷額が全国第1位(2004年)。自動車の生産がさかん。
- (3) 東京都 日本の政治・経済・文化の中心地。京浜工業地帯では、出版・印刷業がさかん。
- (4) 岩手県 三陸海岸南部にはリアス式海岸が発達し、良港が多い。南部鉄器などの伝統工業。
- (5) 北海道 根釧台地などの酪農、十勝平野の畑作、石狩平野・上川盆地などの稲作。

確認問題

1 次の地図をみて、あとの問いに答えなさい。



- (1) ①のヨーロッパ州とアジア州に広がる大陸を何というか。 [] 大陸
- (2) ②の大洋名を書け。 []
- (3) ア、イはそれぞれ緯度、経度が0度の線である。それぞれ何というか。
ア [] イ []
- (4) Yの地点の緯度と経度を、次のXの地点の例にならって書け。
[例] X地点：北緯20度、東経160度
[]

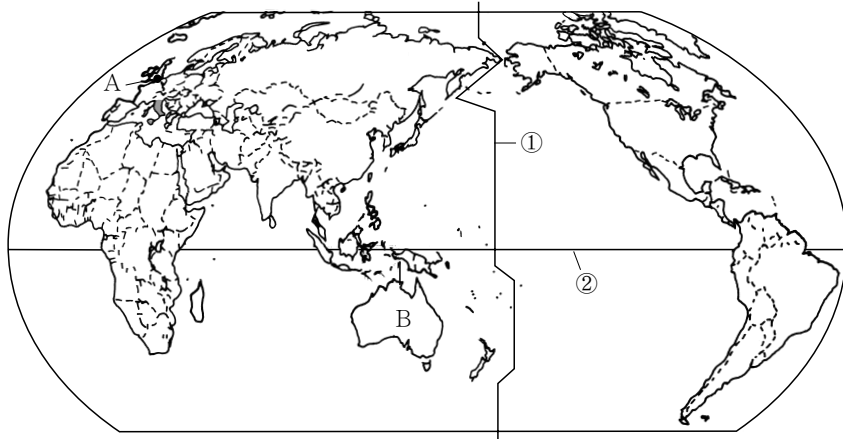
2 日本について、次の問いに答えなさい。

- (1) 日本の標準時は、東経何度を基準にしているか。 [東経] 度
- (2) 経済水域は、沿岸から何海里の範囲か。 [] 海里
- (3) 日本固有の領土で、ロシアに返還を求めている島を何というか。 []
- (4) 次の各問いにあてはまる都道府県名を下から選び、記号で答えよ。
① 四国と同じぐらいの面積で、太平洋に面した海岸はリアス式海岸になっている。 []
② 面積がもっとも大きく、じゃがいも、にんじんなどが全国第1位(2004年)の生産量である。 []
③ 輸送機械のほか、窯業、毛織服地などの工業がさかんである。 []
④ 八幡製鉄所を中心に発展した工業地帯があるが、近年は地位が低下した。 []
ア 福岡県 イ 東京都 ウ 愛知県
エ 岩手県 オ 北海道

基本問題

1 世界のすがた

次の地図をみて、あとの問いに答えなさい。



- (1) 地図中の①の線を何というか。
- (2) 地図中の②の線は、赤道を表している。赤道を通らない国を次から選び、記号で答えよ。
 ア サウジアラビア イ エクアドル ウ インドネシア エ ケニア
- (3) 地図中 A のロンドンが1月1日午前10時であるとき、日本の時刻を答えよ。
- (4) 地図中 のイタリアの首都にある、世界最小の国の名前を答えよ。
- (5) 地図中 B のオーストラリアをふくむ州の名前を答えよ。

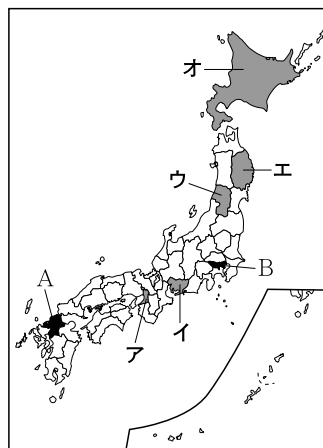
1

- (1) _____
- (2) _____
- (3) _____
- (4) _____
- (5) _____

2 都道府県の調査

右の地図をみて、次の問いに答えなさい。

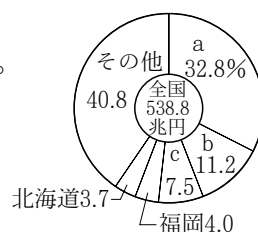
- (1) 次の説明にあてはまる都道府県を地図中のア～オから選び、記号と都道府県名を書け。
 - ① 南部鉄器などの伝統工業がさかんで、近年はIC工場が進出してきている。
 - ② 沖合の埋立地に、24時間離発着できる国際空港がつくられている。
 - ③ さくらんぼの生産量が全国第1位(2004年)で、天童の将棋のこまなどの伝統工業がさかんである。
 - ④ 自動車工業が発達し、都道府県別の工業製品出荷額では全国一(2004年)である。



- (2) 地図中の A の都道府県について、次の問いに答えよ。
 - ① この都道府県にある都市で、九州の政治・経済・文化の中心となっている都市はどこか。
 - ② この都道府県内に工業地帯が発達したのは、ある資源が豊富にとれるためであった。この資源は何か。次から選び、記号で答えよ。

ア 石油 イ 鉄鉱石 ウ 石炭 エ 銅鉱

- (3) 右のグラフは都道府県別の年間商業販売額を表している。グラフ中の a～c のうち、地図中の B の都道府県にあてはまるものを選び、記号で答えよ。



(「日本国勢図会」2006/07年版)

2

- (1) ① _____
- ② _____
- ③ _____
- ④ _____
- (2) ① _____
- ② _____
- (3) _____