

1

世界のすがた・世界各地の人々の生活と環境

★入試情報 雨温図の読み取りを確実に。世界の各地域の特徴をつかんでおくこと。

要点のまとめ

- (1) **六大陸と三大洋** 六大陸－ユーラシア大陸，アフリカ大陸，北アメリカ大陸，南アメリカ大陸，オーストラリア大陸，南極大陸。三大洋－太平洋，大西洋，インド洋。陸地と海洋の面積の割合はおよそ3：7である。
- (2) **地球儀と世界地図，緯度・経度**
 - ① 地球儀と世界地図…地球儀は地球をほぼ正確に表す。世界地図は，面積が正しい地図，角度が正しい地図，中心からの距離と方位が正しい地図などがある。
 - ② 緯度・経度…緯度は赤道を0度とし，北緯・南緯それぞれ90度に分ける。経度はイギリスのロンドンを通る本初子午線を0度とし，東経・西経それぞれ180度に分ける。緯度を表すのが緯線，経度を表すのが経線。
- (3) **地域区分と世界の国々**
 - ① 地域区分…アジア州，ヨーロッパ州，アフリカ州，北アメリカ州，南アメリカ州，オセアニア州に分けられる。アジア州をさらに東アジア・東南アジア・南アジア・中央アジア・西アジアに分けることもある。
 - ② 世界の国々…国が成り立つ三つの条件は，領土・国民・主権。海に囲まれた国は島国[海洋国]，海に面していない国は内陸国。面積が最も広い国はロシア連邦(2015年)，人口が最も多い国は中国である(2015年)。
- (4) **世界の気候と生活** 年中気温が低い寒帯，冬の寒さが厳しい冷帯[亜寒帯]，四季の変化がある温帯，降水量が少ない乾燥帯，年中気温が高い熱帯，標高の高い地域に見られる高山気候。家のつくりや食事など，それぞれの自然環境にあったくらしをしている。
- (5) **世界の宗教** 三大宗教－キリスト教，イスラム教，仏教。インドなどではヒンドゥー教が信仰されている。

基本問題

/18問

BASIC

◆ 次の文の□に適する語を書きなさい。

- (1) 陸地と海洋のうち，地表のおよそ70%を占めるのは，①□である。 [①]
- (2) 世界には6つの大陸があり，最も面積が広い大陸は，②□大陸，最も面積が小さい大陸は③□大陸である。 [②]
[③]
- (3) 世界の海洋は，④□，大西洋，インド洋の三大洋と，三大洋に付属する小さい海に分かれる。 [④]
- (4) ⑤□は地球を縮めたものであり，地球の面積や距離，方位などをほぼ正確に表している。 [⑤]
[⑥]
- (5) 0度の緯線を⑥□といい，これより北の緯度は⑦□，南の緯度は⑧□で表す。 [⑦]
[⑧]
- (6) 0度の経線を⑨□といい，イギリスの首都である⑩□を通っている。 [⑨]
[⑩]
- (7) 世界の6つの州のうち，日本は⑪□に，フランスは⑫□にくまれる。 [⑪]
[⑫]
- (8) 国が成立するための三つの条件とは，領土・国民・⑬□である。 [⑬]
- (9) 海に囲まれた国を⑭□，海に面していない国を⑮□という。 [⑭]
- (10) 世界の気候帯のうち，主に赤道付近に分布しているのは，⑯□である。 [⑯]
- (11) 世界の気候帯のうち，アフリカ大陸の北部や西アジアの国々は，主に⑰□に属している。 [⑰]
- (12) 世界の三大宗教は，キリスト教，⑱□，仏教である。 [⑱]

標準問題

STANDARD

〈六大陸と三大洋，緯度・経度〉

1 右の世界地図を見て，次の問いに答えなさい。

□(1) 地図中の X～Z から，最も広い海洋を一つ選び，記号と海洋名を答えなさい。

[] []

□(2) 地図中には，六つの大陸のうち一つがえがかれていません。その大陸名を答えなさい。

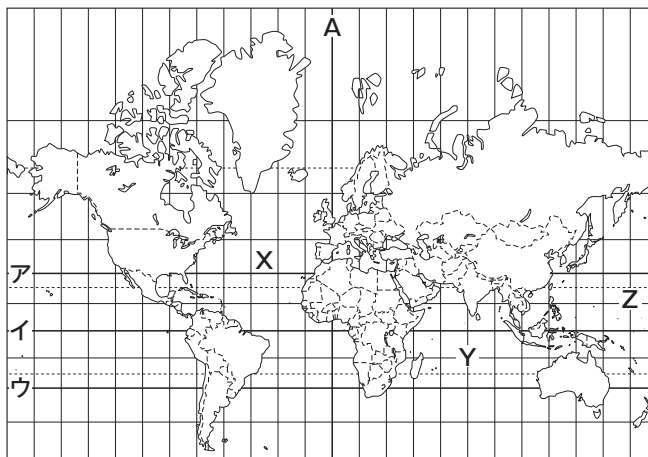
[] 大陸

□(3) 地図中のア～ウの緯線から赤道を一つ選び，記号で答えなさい。

[]

□(4) 地図中の A の経線を通る国を，次のア～エから一つ選び，記号で答えなさい。

[]



ア アメリカ イ イギリス ウ ロシア連邦 エ オーストラリア

□(5) この地図についての説明として正しいものを，次のア～エから一つ選び，記号で答えなさい。

ア 距離，方位，面積，形のいずれも正しく表されている。 []

イ 面積が正しく表されている。

ウ 地図の中心からの距離と方位が正しく表されている。

エ 赤道から遠ざかるほど，実際よりも拡大して表されている。

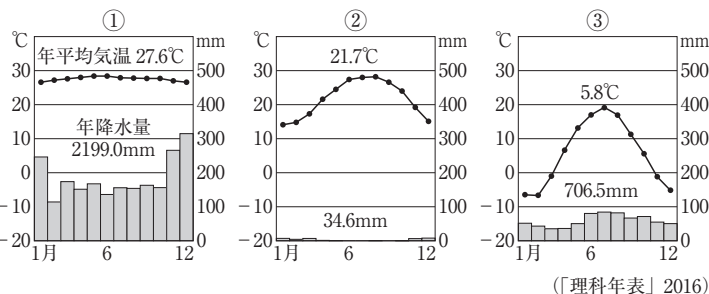
〈世界の気候と生活〉

2 右のグラフを見て，次の問いに答えなさい。

□(1) ①～③のグラフにあてはまる気候帯を，次のア～エから一つずつ選び，記号で答えなさい。

① [] ② []

③ []



〔理科年表〕2016

ア 熱帯 イ 温帯 ウ 冷帯〔亜寒帯〕 エ 乾燥帯

□(2) ①～③のグラフの気候帯の自然や生活の説明としてあてはまるものを，次のア～エから一つずつ選び，記号で答えなさい。

① [] ② [] ③ []

ア 針葉樹林しんようじゆりんが広がっている。

イ 住居ゆかは床を高くし，湿気しつげを防ぐ工夫などを行っている。

ウ リャマやアルパカを家畜けいしゆにしている。

エ 羊ややぎの遊牧ゆうぼくを行っている地域がある。

● 入試によく出る基本問題

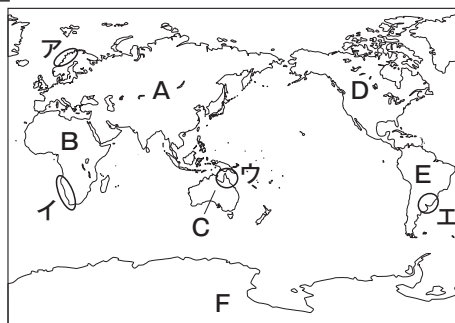
◇ 右の略地図を見て，次の問いに答えなさい。

① 世界で最も面積が小さい国(2015年)がある大陸を，略地図中の A～F から一つ選び，記号で答えよ。 []

② 世界で最も面積が広い国(2015年)がある大陸を，略地図中の A～F から一つ選び，記号で答えよ。 []

③ かつてヨーロッパ諸国の植民地となっていた影響えいきやうで，緯線や経線に沿ったまっすぐな国境線をもつ国が多い大陸を，略地図中の A～F から一つ選び，記号で答えよ。 []

④ 地球上で日本のほぼ反対側にあたる位置を，略地図中の A～E から一つ選び，記号で答えよ。 []



実力問題

ADVANCE

〈世界地図〉

1 右の世界地図を見て、次の問いに答えなさい。

□(1) 地図中の X の大陸名を書きなさい。 []

□(2) 東京から見た地図中の㉑、㉒の都市の方位を、8方位で書きなさい。

㉑ []

㉒ []

□(3) 地図中の㉑～㉒の都市のうち、東京から最も遠い都市を一つ選び、記号で答えなさい。

[]

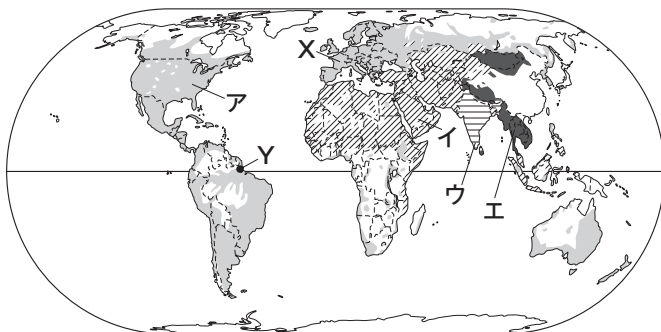
□(4) 地図中の A は海に囲まれている島国〔海洋国〕である。A と同じ島国を、次のア～エから一つ選び、記号で答えなさい。 []

ア インド イ イギリス ウ ブラジル エ サウジアラビア



●入試はこう出る 〈世界の国々・気候・宗教〉

2 次の地図を見て、あとの問いに答えなさい。



〔ディルケ世界地図〕2008ほか

□(1) 右下の表は、世界各州の面積を表したものです。表から読み取ったことがらを述べた次の文中の()にあてはまる語句を、ア～ウから一つ選び、記号で答えなさい。 []

各州の面積の合計に占める地図中の X の国をふくむ州の面積の割合は、おおよそ(ア 13% イ 17% ウ 23%)である。

□(2) 地図中の Y の都市が属する気候帯の名を書きなさい。

[]

□(3) コーランを教典とし、1日5回の礼拝や約1か月の断食という儀式などを行う宗教が信仰されている地域を、地図中のア～エから一つ選び、記号で答えなさい。 []

アジア州	31.9 百万 km ²
アフリカ州	30.3 百万 km ²
ヨーロッパ州	23.0 百万 km ²
北アメリカ州	24.5 百万 km ²
南アメリカ州	17.8 百万 km ²
オセアニア州	8.6 百万 km ²
合計	136.2 百万 km ²

(2015年)〔「世界国勢図会」2015/16〕
端数の関係で、合計の値は各州の値の合計と一致しない。

ヒント

- 1 (1) ブラジル、アルゼンチン、チリなどがある大陸。
- (2) 地図の上は北、下は南、右は東、左を西を示す。
- (3) この地図では、地図の中心から遠ざかるほど、東京からの距離が遠くなる。
- (4) A はニュージーランド。インドとサウジアラビアはアジア州、イギリスはヨーロッパ州、ブラジルは南アメリカ州の国である。

2 (北海道改)

- (1) X はフランスである。フランスが属する州はどこかを考える。
- (2) 赤道付近の地域は、どのような気候帯か考える。
- (3) アはキリスト教、イはイスラム教、ウはヒンドゥー教、エは仏教が主に信仰されている地域である。