

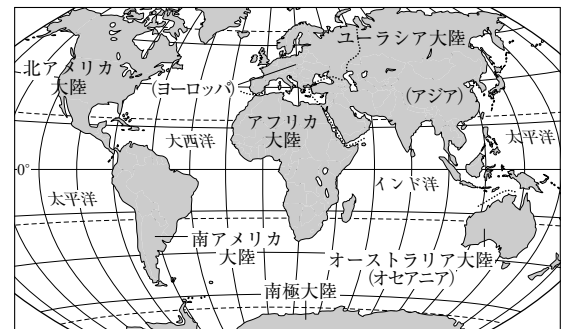
1

世界のすがた

1 地球の概要

- (1) **地球**…全周が約4万km，表面積約5.1億km²ほどの大きさ。約72億人(2013年)の人々が住んでいる。地球は完全な球体ではなく，南北に少しおしつぶされ，東西にややふくらんでいる。
- (2) **海と陸**…地球は，表面積の約70%の海と約30%の陸からできている。
 - ① **六大陸**…陸地は，ユーラシア大陸(ヨーロッパとアジアをふくむ)，アフリカ大陸，北アメリカ大陸，南アメリカ大陸，オーストラリア大陸，南極大陸と多くの島々からなっている。
 - ② **三大洋**…海洋は，_____ (太平洋，大西洋，インド洋)とそれに付属する海とに分けられる。

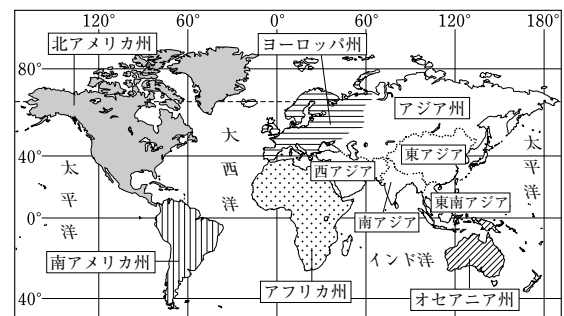
▶ 世界の大陸と海洋



2 世界の地域区分

- (1) 州別に分類すると，次の6つに大別される。
 - ① **アジア州**…ユーラシア大陸のうち，ウラル山脈～カスピ海～黒海から東の地域。
 - ② **ヨーロッパ州**…ユーラシア大陸のうち，アジア以外の地域。
 - ③ **アフリカ州**…アフリカ大陸の地域。スエズ地峡で，ユーラシア大陸と分かれている。
 - ④ **北アメリカ州**…北アメリカ大陸の地域。
 - ⑤ **南アメリカ州**…南アメリカ大陸の地域。北アメリカとはパナマ地峡が境となっている。
 - ⑥ **オセアニア州**…オーストラリア大陸と太平洋の島々の地域。
- (2) 州をさらに小さく区分する例。
 アジア州の場合は，東アジア，東南アジア，西アジア，南アジア，中央アジア，シベリアといった地域に分けられる。日本は，東アジアに位置する国といえる。

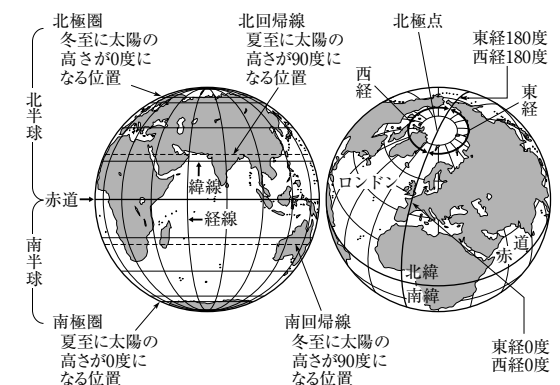
▶ 6つの州に分けられる世界



3 海陸の分布

- (1) **北半球と南半球**…赤道をはさんで，地球の北側の半分を_____，南側の半分を_____とよぶ。北半球には陸地のおよそ3分の2が位置している。南半球には海洋の約7分の4がある。
- (2) **陸半球と水半球**…地球を，陸の多い半球と海の多い半球とに分けたとき，陸の多い半球を陸半球，海の多い半球を水半球という。
- (3) **東半球と西半球**…東経0～180度の半球を東半球，西経0～180度の半球を西半球という。一般にアメリカ大陸は西半球の大陸，ユーラシア大陸とアフリカ大陸は東半球の大陸という。

▶ 地球上の位置

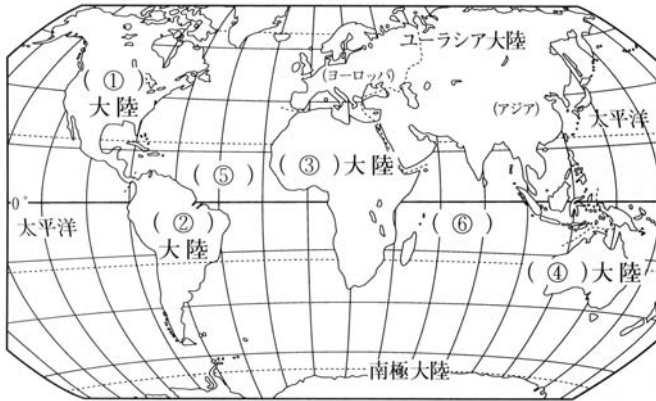


確 認 問 題

1 図によるまとめ

次の(1), (2)の図中の()①~⑬にあてはまる語句を書きなさい。また, (2)は, ()⑦~⑬にあてはまる語句の説明文を, 下のA~Gの中からそれぞれ選び, その記号を書きなさい。

□(1) 六大陸と三大洋



※①~④は大陸名,
⑤, ⑥は海洋名

□(2) 地球儀は地球をほぼ正確に表すことができる。

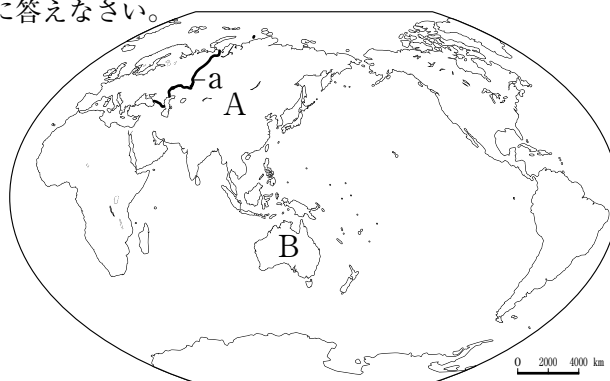


- A 北極点と南極点を結ぶ線。
- B 冬至のとき, 太陽の高さが90度になる位置。
- C 地球の北側の半分。
- D 緯度0度の線。
- E (⑩)に平行する線。
- F 夏至のとき, 太陽の高さが90度になる位置。
- G 地球の南側の半分。

2 世界の地域区分

右の地図を見て, 次の問いに答えなさい。

- (1) Aの大陸のうち, 地図中のaの境界で, 2つの州に区分することがある。それぞれ, 何州とよぶか。
- (2) 地図中のBの大陸を中心に, 太平洋の大部分の島々をふくめた地域を何州とよぶか。



□(3) 次のア~ケの国のうち, ①アフリカ州にある国, ②南アメリカ州にある国を, それぞれ3つずつ選び, その記号を書け。

- | | | |
|---------|----------|--------|
| ア エチオピア | イ パキスタン | ウ ブラジル |
| エ メキシコ | オ エジプト | カ ベルー |
| キ カナダ | ク アルゼンチン | ケ ケニア |

□(4) 日本は, どの地域に属しているか。次のア~エから選び, 記号で書け。

- ア 南アジア イ 東アジア ウ 東南アジア エ 西アジア

- 1
- (1)① 大陸
- ② 大陸
- ③ 大陸
- ④ 大陸
- ⑤
- ⑥
- (2)⑦ .
- ⑧ .
- ⑨ .
- ⑩ .
- ⑪ .
- ⑫ .
- ⑬ .

- 2
- (1) 州
- 州
- (2) 州
- (3)①
- ②
- (4)