

# 1

# 日本のすがた

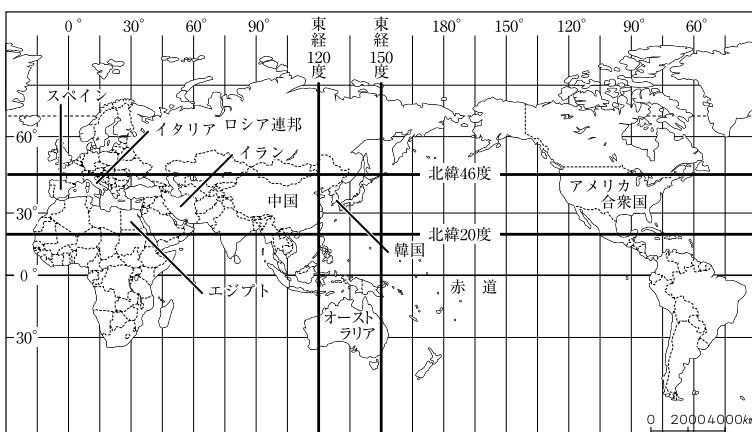
## 1 世界から見た日本の位置

- (1) **日本の位置**…日本の国土は、経度でおよそ東経122度～154度の間、緯度でおよそ北緯20度～46度の間に位置する。
- (2) **日本の周囲**…日本の四方は、太平洋、日本海、オホーツク海、東シナ海に囲まれている。
- (3) **日本と同じ経緯度の国**
  - ① **日本と同緯度の国**…北朝鮮・韓国・トルコ・スペイン・イタリア・ギリシャ・アメリカ合衆国など。
  - ② **日本と同経度の国**…オーストラリア・ロシア連邦(一部)・パプアニューギニアなど。

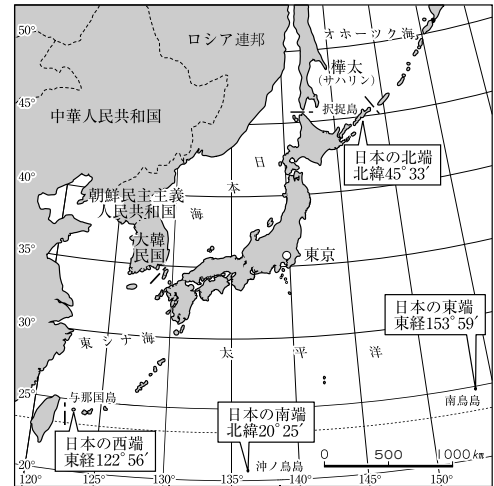
## 2 日本の国土

- (1) **日本の国土の概要**…ユーラシア大陸の東の端にある島国で、弓状に、南北およそ3000kmの長さのびている。
- (2) **日本の領域**
  - ① **領土**…日本の領土は、北海道、本州、四国、九州の4つの島と付近の多くの小島からなる(日本列島)。国土面積は、約38万km<sup>2</sup>である。
  - ② **領海**…日本の\_\_\_\_\_は、沿岸から12海里(1海里=約1852m)と定められている。領海を除く200海里までの水域を\_\_\_\_\_として、外国が漁業や海底の鉱産資源の採掘を行えないように定めている国が多い。
- (3) **日本の国境**
  - ① **第二次世界大戦前**…明治時代初期に千島列島を領有。明治以降、台湾・朝鮮・樺太南部などを領有。
  - ② **第二次世界大戦後**…領土は四つの島とその周辺の島々に限定される。現在北方領土(えとらふ 択捉島・くなしり 国後島・しこたん 色丹島・はほまい 歯舞群島)、日本海の竹島、東シナ海の尖閣諸島などで、ロシア、韓国、中国との間で領土問題が起きている。

### ▶ 日本と同じ経緯度の国



### ▶ 日本の領域



## くわしく学ぼう

### ①日本の端

- ・最北端…択捉島(北海道)
- ・最東端…南鳥島(東京都)
- ・最南端…沖ノ鳥島(東京都)
- ・最西端…与那国島(沖縄県)

最南端の沖ノ鳥島は、満潮時には2つの岩の頭が海上にでるだけのさんご礁である。この島が沈んでしまうと、日本は排他的経済水域をおよそ40万km<sup>2</sup>失ってしまう。そのため、この島を波の侵食から守るために、日本政府は、約300億円をかけて、護岸工事を行った。

### ②日本の領土問題

- ・北方領土…日本の固有の領土だが、1945年にソ連に占領され、現在はロシアが引き続き占拠している。日本はロシアに返還を求めている。
- ・竹島…竹島は1905年から日本の島根県に属している。しかし、韓国が自国の領土だと主張している。
- ・尖閣諸島…明治時代から日本が領有を宣言している。しかし、1970年代から中国が自国の領土だと主張している。

3 標準時と時差

- (1) **標準時の決め方**…太陽が真南に来たとき(北半球の場合)を、午後0時(正午)とする。国や地域ごとに、標準となる経線を決め、標準時を決めている。
- (2) **日本の標準時**…日本では、東経135度(兵庫県明石市)の経線の真上に太陽が来たときを、午後0時としている。この東経135度線を、日本の\_\_\_\_\_という。
- (3) **日付変更線**…地球上で日付を変えるために設定した境界線で、ほぼ180度の経線に沿って、日付変更線が決められている。日付変更線を東から西へこえるときは日付を1日進める。
- (4) **時差の意味**…地球は1日(24時間)で1回転(360度)するので、「 $360 \div 24 = 15$ 」の計算より、1時間では、15度回転することになる。このため、地球上では、経度15度ごとに1時間の時間のずれが生じる。この経度による時刻の差を\_\_\_\_\_という。
- (5) **標準時子午線による時差**…イギリス(標準時子午線は0度)と日本では、経度差が135度あるから、9時間の時差がある。日付変更線をまたがないようにして、位置関係をみたとき、東にあるほうが時間が早く、西にあるほうが、時間が遅い。

4 日本の区分

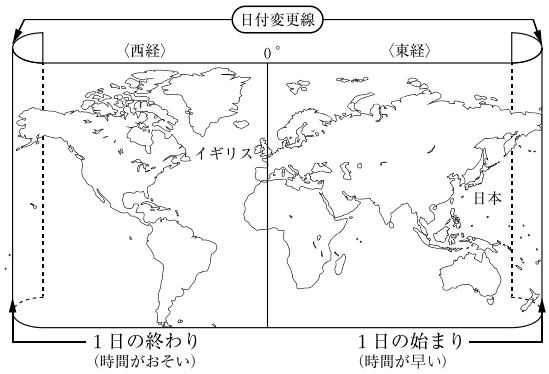
- (1) **行政上の区分**…1都=東京都, 1道=北海道, 2府=大阪府・京都府, 43県の47に区分されている。
- (2) **地方の区分**…明治時代以降から一般的に用いられている。北海道地方, 東北地方, 関東地方, 中部地方, 近畿地方, 中国・四国地方, 九州地方の7つ。
- (3) **開発上の区分**…首都圏, 近畿圏, 中部圏, あるいは太平洋ベルトといった分け方がある。
- (4) **その他の区分**

- ① 東日本と西日本…本州を縦断する\_\_\_\_\_を境目とする。
  - 東北日本…関東・東北・北海道地方
  - 中部日本…中部地方
  - 西南日本…九州・中国・四国・近畿地方

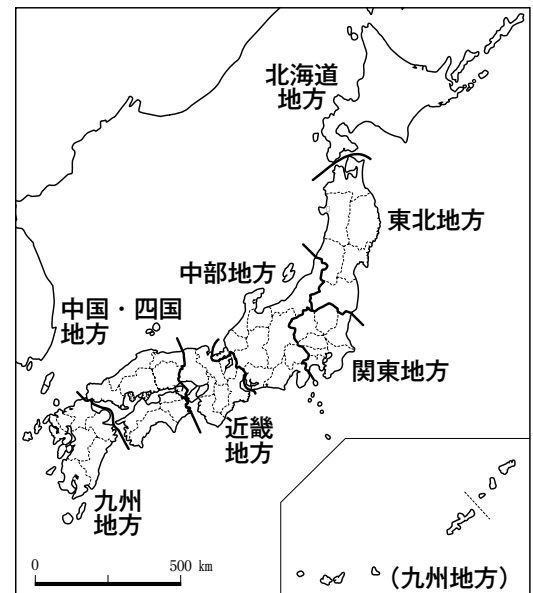
5 日本の都道府県

- (1) **都道府県庁所在地**…都道府県庁が置かれ、その都道府県の行政の中心となるところ。18の道県で道県名と道県庁所在地名が異なる。
- (2) **都道府県の特徴**
  - ① 人口の多い都道府県…東京都, 神奈川県, 大阪府など。
  - ② 人口の少ない都道府県…鳥取県, 島根県, 高知県など。
  - ③ 面積の広い都道府県…北海道, 岩手県, 福島県など。
  - ④ 面積のせまい都道府県…香川県, 大阪府, 東京都など。

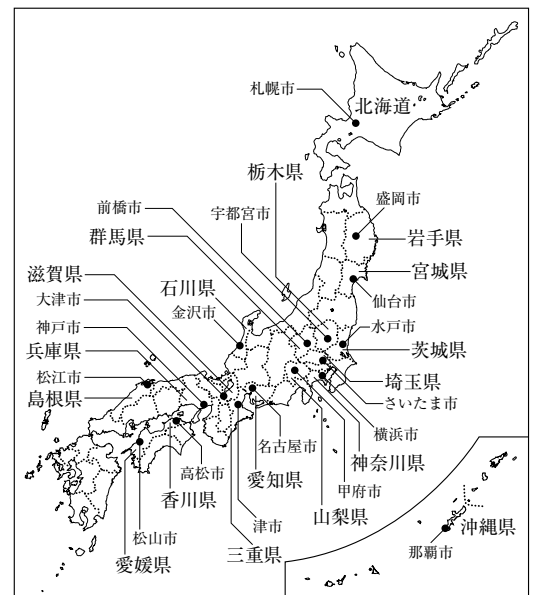
▶日付変更線



▶地方による区分



▶道県名と道県庁所在地名が異なる場所





**2 日本の区分**

次の問いに答えなさい。

- (1) 地図 I 中の A～G の地方名を、次の語群からそれぞれ選んで書け。

〔 九州 関東 東北 〕  
〔 中部 中国・四国 〕  
〔 近畿 北海道 〕

- (2) (1)の7つの地方のうち、A、B、Cの3つをあわせて、何日本とよぶか。名称を書け。
- (3) 行政上の区分として、1都1道2府と、あといくつの県があるか、数字を書け。
- (4) 首都圏にあてはまらない都道府県を次のア～エの中から選び、その記号を書け。

ア 千葉県 イ 埼玉県  
ウ 静岡県 エ 山梨県

- (5) 日本の都道府県のうち、最も多くの都道府県と接しているのはどこか。次のア～エの中から選び、その記号を書け。

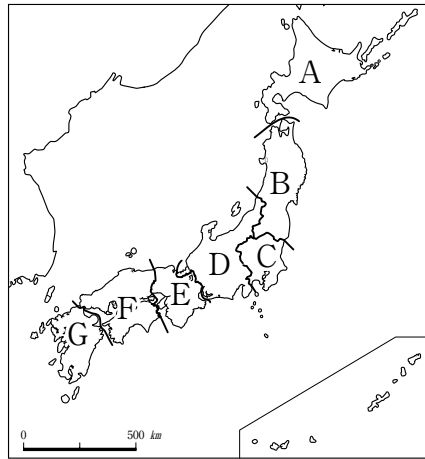
ア 奈良県 イ 栃木県  
ウ 長野県 エ 宮崎県

- (6) 地図 II 中の A～D の都道府県名を書け。
- (7) 地図 II 中の I～IV の都道府県と県庁所在地名の組み合わせとして誤っているものを、次のア～エの中から選び、その記号を書け。

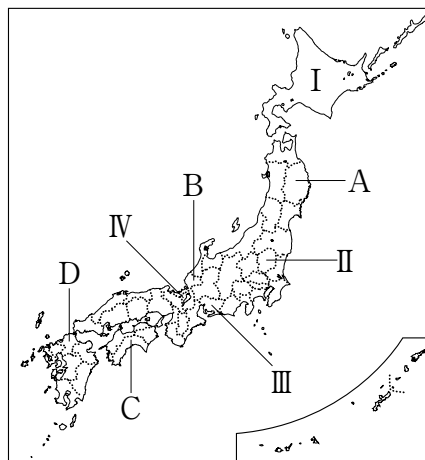
ア I - 北海道, 札幌市      イ II - 栃木県, 宇都宮市  
ウ III - 愛知県, 名古屋市      エ IV - 滋賀県, 津市

- (8) 九州地方には、県名と県庁所在地名が異なる県が1つある。その県名と県庁所在地名を書け。

地図 I



地図 II



**3**

(1) A 地方

B 地方

C 地方

D 地方

E 地方

F 地方

G 地方

(2) 日本

(3)

(4)

(5)

(6) A

B

C

D

(7)

(8) 県名

県庁所在地名

**3**

右の地図を見て、次の問いに答えなさい。

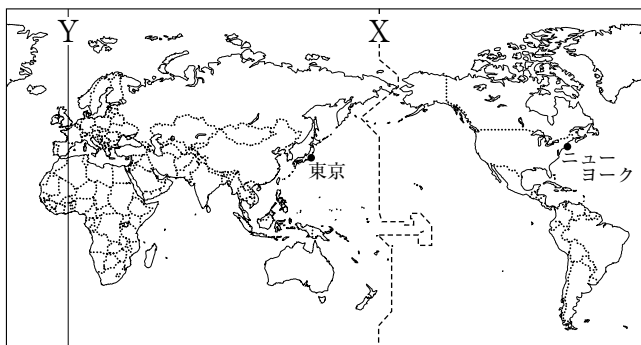
- (1) 地図中に X で示した線は、地球上で日付を変えるために定められたものである。この線を何というか。

- (2) 地図中に Y で示した線は、0度の経線である。この経線が通る都市を、

次のア～エの中から選び、その記号を書け。

ア カイロ イ ロンドン ウ ローマ エ パリ

- (3) 地図中の東京とニューヨークの時差は何時間か。ただし、ニューヨークの標準時子午線は西経75度である。



(1)

(2)

(3) 時間