

4 オリент文明

- (1) **エジプト文明**…紀元前3000年ごろ、ナイル川流域の国々が統一されて大きな国家がおこった。国王の墓であるピラミッドがつくられた。天文学が発達し_____がつくられた。測量術・数学も発達し、絵文字から_____がつけられた。「エジプトはナイルのたまもの」といわれた。
- (2) **メソポタミア文明**…紀元前3000年ごろ、チグリス川とユーフラテス川流域に都市国家(ウル・ウルクなど)が生まれた。_____を發明。月の満ち欠けをもとにした_____、七曜制、60進法も考案、法律も整えられた。
- (3) **オリент文明**…エジプトとメソポタミア地方は、**オリент**と呼ばれた。ここから鉄器や文字が広まった。

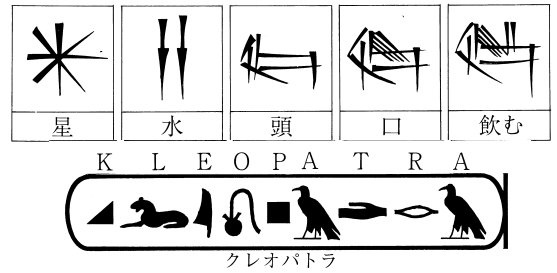
5 東洋文明のおこり

- (1) **インドの文明**…紀元前2500年ごろ、インダス川流域のモヘンジョ・ダロなどの都市が発達し_____がおこった。紀元前1500年ごろ、アーリヤ人が侵入して先住民を支配し、ガンジス川の流域にまで進出し、バラモンを最高身分とする厳しい身分制度(_____)をつくった。
- (2) **仏教の広まり**…紀元前6～5世紀ごろ、**シャカ**(釈迦)が_____を開き、インド各地に広まった。ヘレニズム文化の影響を受けた仏像彫刻がつくられた(**ガンダーラ美術**)。
- (3) **中国の古代王朝**…黄河・長江流域に**中国文明**が発生。
 - ① **殷**…紀元前16世紀ごろ、**青銅器**、_____を使用。
 - ② **周**…紀元前11世紀ごろ、殷をほろぼし中国を支配した。
 - ③ **春秋・戦国時代**…紀元前8世紀ごろ、戦乱の時代。鉄製農具・貨幣の使用。_____の**儒学**(**儒教**)。
 - ④ **秦**…紀元前221年、_____が中国統一。北方の遊牧民族(匈奴)の侵入を防ぐため_____を築く。
 - ⑤ **漢**…紀元前3世紀末に中国統一。武帝のときに大帝国。「_____」が開かれた。紙の發明。
- (4) **東アジアの国々**…朝鮮では、鉄器の普及などで農耕が発達し、北部の高句麗が各地の小国を統一した。

6 ヨーロッパ文明のおこりとイスラム教

- (1) **ギリシャ**…各地に多数の都市国家(**ポリス**)。特にアテネでは成年男子市民全員による民主政治。合理的な考えを重んじる。一方、人間性も尊重し、哲学、文学、演劇、数学などが発展。
- (2) **ローマ帝国**…都市国家の中の1つのローマが、紀元前1世紀には地中海周辺を支配する_____となった。水道や建築、法律の整備など実用的な面にすぐれ、ラテン語も発達した。
- (3) **キリスト教**…紀元前後、パレスチナで、_____が_____を開いた。キリスト教は、ギリシャ・ローマの文明とともに、ヨーロッパ文明の源となった。
- (4) **イスラム教**…7世紀前半、アラビア半島でムハンマドが**唯一神**アラーへの服従を説く。

▶ 楔形文字(上)と象形文字(下)



⑥ 「エジプトは…」

ギリシャの歴史家ヘロドトスの言葉。

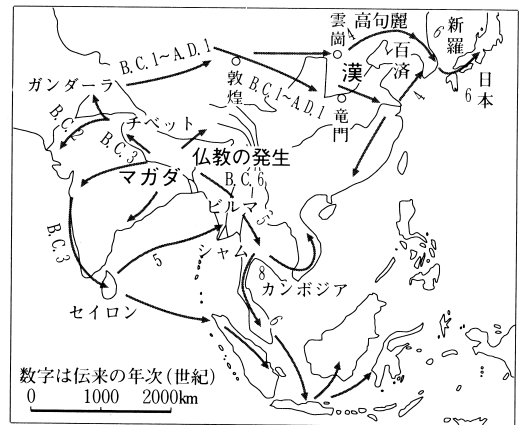
⑦メソポタミア

「2つの川の間の土地」という意味。

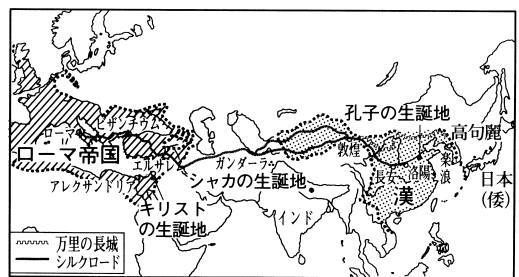
⑧法律

ハ(ン)ムラビ法典のこと。

▶ 仏教の伝来



▶ 古代の世界(2世紀ごろ)



⑨オリент

「太陽ののぼる土地」という意味。

⑩ヘレニズム

「ギリシャ風」という意味。

⑪シルクロード(絹の道)

中国の絹が西方に、西方のぶどうや馬が中国に伝えられた。

⑫哲学

哲学者のソクラテスは、「なんじ自身を知れ」と教えた。

確 認 問 題

1 年表によるまとめ

□ 次の年表の〔 〕①～⑪にあてはまる語句や数字を答えなさい。

年 代	世界のできごと	中国時代	日本のできごと
300万年前ごろ 4～1万年前ごろ	人類の祖先である〔 ② 〕があらわれる 現在の人類の直接の祖先であるクロマニヨン人があらわれる	旧石器時代	日本列島ができる
前3000ごろ	〔 ③ 〕川流域にエジプト文明がおこる チグリス川・ユーフラテス川流域に〔 ④ 〕文明がおこる		
前2500ごろ	〔 ⑤ 〕川流域にインダス文明がおこる	〔 ⑥ 〕 〔 ⑨ 〕	採集や〔 ⑩ 〕によって生活する
前1500ごろ	黄河流域に〔 ⑥ 〕王朝がおこる		
前800ごろ	ギリシャにポリス(都市国家)ができる	周	稲作・〔 ⑪ 〕器の使用が始まる
前500ごろ	インドで〔 ⑦ 〕が仏教を開く ギリシャで民主政治が行われる	春秋・戦国時代	
前334	アレクサンドロス大王が東征を開始する	秦	
前〔①〕	秦の始皇帝が中国を統一する		
前27	ローマが帝政となる	前漢	
前4ごろ	イエスが生まれる	〔 ⑧ 〕	
2世紀	ローマ帝国が栄える		弥生時代
313	ローマ皇帝がキリスト教を公認する		

1

①

②

③

④

⑤

⑥

⑦

⑧

⑨

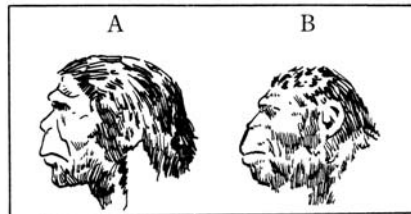
⑩

⑪

2 人類のおこり

右の絵をみて、あとの問いに答えなさい。

□(1) Aは、中国で発見された、火を使い始めた人類である。この人類の名称を書け。



□(2) Bは、約300万年ほど前に生きた「南の猿人」という意味の名をもつ人類である。この人類の名称を書け。

□(3) (2)の骨はどこで発見されたか。

□(4) Aの人類が使用していたものとして正しくないものを次のア～ウの中から選び、その記号を書け。

ア 道具 イ 言葉 ウ 文字

2

(1)

(2)

(3)

(4)

3 人類の歩み

次の問いに答えなさい。

□(1) 打製石器を使い、狩りや採集の生活をしていた時代を何というか。

□(2) 日本にも(1)の時代があったことが明らかになった、群馬県で発見された遺跡を何というか。

□(3) 長野県の野尻湖の1万年以上前の地層からどんな動物の骨が発見されたか。2つ書け。

□(4) ジャガイモやトウモロコシの原産地と考えられているのはどこか。

ア アフリカ イ ヨーロッパ ウ 南アメリカ エ アジア

3

(1)

(2)

(3)

(4)